

NÍVEL SUPERIOR COMPLETO

CARGO 34: PROFESSOR DE EDUCAÇÃO BÁSICA II - EDUCAÇÃO FÍSICA

FUNDAÇÃO
CETAP



Prefeitura Municipal de Ourém

INSTRUÇÕES ESPECIAIS

- 01** Você está recebendo o seu Caderno de Questões, contendo 50 (cinquenta) questões objetivas de múltipla escolha, numeradas de 01 a 50, em ordem sequencial. Confira a sequência numérica de seu Caderno de Questões antes de iniciar a resolução, assim como o número de páginas, comunicando, imediatamente, ao Fiscal de Sala, em caso de repetição ou ausência de questão ou página.
- 02** Você deve conferir, na capa do Caderno de Questões e no rodapé das páginas internas, o cargo a que o Caderno de Questões se refere. Caso você tenha recebido um Caderno de Questões que não corresponda ao mesmo cargo descrito no seu Cartão Resposta, comunique imediatamente ao Fiscal de Sala e exija o Caderno de Questões correto.
- 03** As respostas das questões objetivas de múltipla escolha do Caderno de Questões deverão ser transcritas para o Cartão Resposta com caneta esferográfica de tinta azul ou preta fabricada em material transparente.
- 04** Para cada questão da Prova Objetiva de Múltipla Escolha existirão 05 (cinco) alternativas de resposta (A, B, C, D e E), das quais apenas uma será correta, de acordo com o comando da questão. A marcação de mais de uma no Cartão Resposta anula, automaticamente, a resposta da questão.
- 05** O tempo máximo disponível para realização da prova é de 3h30 (três horas e trinta minutos), já incluído o tempo destinado à identificação e ao preenchimento do Cartão Resposta.
- 06** Somente depois de decorridos 60 minutos do início da prova, o candidato poderá entregar o seu Caderno de Questões e o seu Cartão Resposta, e retirar-se da sala de prova.
- 07** Os 3 (três) últimos candidatos só poderão sair da sala de prova juntos.
- 08** Será permitido ao candidato levar consigo o Caderno de Questões e o Gabarito desde que nos últimos 30 (trinta) minutos antes do término da prova.

ATENÇÃO

Escreva no espaço apropriado do **Cartão Resposta**, com a sua caligrafia usual, a seguinte “frase mestra” de Goethe:

“A alegria não está nas coisas, está em nós.”

A transcrição da “frase mestra” é obrigatória e servirá para identificar o Cartão Resposta do candidato, bem como possibilitar o Exame Pericial Grafotécnico, quando for o caso. A falta da transcrição poderá ocasionar a eliminação do candidato no presente concurso público.

PREFEITURA MUNICIPAL DE OURÉM/PA
CONCURSO PÚBLICO Nº 01/2017



Leia o texto e responda o que se pede no comando das questões:

A Trump o que é de César.

Há algumas semanas, um sujeito muito parecido com Donald Trump levou 33 punhaladas no meio do Central Park, em Nova York. O sangue era cênico e os punhais eram falsos, mas o furor causado pela encenação nada teve de figurativo. Entre 23 de maio e 18 de junho, milhares de pessoas enfrentaram filas para assistir ao assassinato, enquanto outras tantas campeavam a internet denunciando a peça como apologia do terror político. Nada mau, repare-se, para um texto que anda entre nós há mais de 400 anos: o espetáculo em questão é uma montagem de Júlio César, peça escrita por William Shakespeare em 1599. Nessa adaptação, dirigida por Oskar Eustin, o personagem-título tinha uma cabeleira desbotada e usava terno azul, com gravata vermelha mais comprida que o aconselhável; sua esposa, Calpúrnica, falava com reconhecível sotaque eslavo. Um sócio presidencial encharcado de sangue é visão que não poderia passar incólume em um país que já teve quatro presidentes assassinados: após as primeiras sessões, patrocinadores cancelaram seu apoio, fãs do presidente interromperam a peça aos gritos, e e-mails de ódio choveram sobre companhias teatrais que nada tinham a ver com o assunto - exceto pelo fato de carregarem a palavra "Shakespeare" no nome.

Trocar togas por ternos não é ideia nova. Orson Welles fez isso em 1973, no Mercury Theater de Nova York; nessa célebre montagem, o ditador romano ganhou ares de Mussolini e foi esfaqueado pelo próprio Welles, que interpretava Brutus. Nas décadas seguintes, outras figuras modernas emprestaram traços e trejeitos ao personagem: entre elas, Charles de Gaulle, Fidel Castro e Nicolae Ceausescu. Atualizações como essas expandem, mas não esgotam, o texto de Shakespeare - é muito difícil determinar, pela leitura da peça, se a intenção do bardo era louvar, condenar ou apenas retratar, com imparcialidade, os feitos sanguinolentos dos Idos de Março. Por conta dessa neutralidade filosófica, a tarefa de identificar o protagonista da peça é famosamente complicada: há quem prefira Brutus; há que escolha Marco Antônio ou até o velho Júlio.

O texto, como bom texto, não corrobora nem refuta: ele nos observa. Tragédias não são panfletos, e obras que se exaurem em mensagens inequívocas dificilmente continuarão a causar deleite e fúria quatro séculos após terem sido escritas. Em certo sentido, a boa literatura é uma combinação bem-sucedida de exatidão e ambiguidade: se os versos de Shakespeare ainda causam tamanho alvoroço, é porque desencadeiam interpretações inesgotáveis e, às vezes, contraditórias, compelindo o sucessivo universo humano a se espelhar em suas linhas. Ao adaptar a grande literatura do passado ao nosso tempo, também nós nos adaptamos a ela: procuramos formas de comunicar o misterioso entusiasmo que essas obras nos causam e projetamos o mundo, como o vemos em suas páginas.

Não, Shakespeare não precisa ter terno e gravata para ser atual - mas se o figurino cai bem, por que não vesti-lo? (Fonte: BOTELHO, José Francisco. Revista VEJA. Data: 18 de julho de 2017)

Questão 01

"A Trump o que é de César", com esse texto, o autor:

- A) quer exaltar a grande obra de Shakespeare.
- B) faz um jogo de palavras, denunciando a agressividade europeia.

- C) demonstra a atualidade do teatro na exaltação de governantes.
- D) parece concordar que o presidente americano mereceria morrer.
- E) mostra a unanimidade americana contra o presidente Donald Trump.

Questão 12

A relação do vocábulo e seu sinônimo está indevida no seguinte contexto:

- A) assassinato (primeiro parágrafo) - assassinio.
- B) campeavam (primeiro parágrafo) - andar pelo mato.
- C) bardo (segundo parágrafo) - poeta.
- D) corrobora (terceiro parágrafo) - comprova.
- E) refuta (terceiro parágrafo) - desmente.

Questão 13

Alguns verbos rigorosamente impessoais quando usados no sentido figurado sofrem variações. Isso ocorre em:

- A) "Há algumas semanas (...)"
- B) "(...) milhares de pessoas enfrentaram filas (...)"
- C) "(...) e-mails de ódio choveram sobre companhias teatrais (...)"
- D) "(...) mas, se o figurino cai bem (...)"
- E) "(...) sua esposa, Calpúrnica, falava com reconhecível sotaque eslavo."

Questão 14

Observe as regências verbais no excerto e assinale a alternativa com análise correta: "(...) milhares de pessoas enfrentaram filas para assistir ao assassinato (...)"

- A) O complemento do verbo enfrentar pode ser o pronome "la".
- B) Os verbos enfrentar e assistir têm a mesma regência.
- C) O verbo assistir, no sentido de presenciar, exige a preposição "a".
- D) O objeto "ao assassinato" pode ser substituído por "lhe".
- E) O verbo enfrentar apresenta-se como intransitivo.

Questão 15

Marque a alternativa que indique corretamente a figura de linguagem:

- A) "Trocar togas por terno não é ideia nova." (metonímia)
- B) "(...) não corrobora nem refuta (...)" (zeugma)
- C) "(...) mais comprida que o aconselhável". (hipérbole)
- D) "(...) para um texto que anda entre nós (...)" (metáfora)
- E) "(...) e projetamos o mundo (...)" (silepse de pessoa)

Questão 16

Assinale a alternativa que analise corretamente a oração "(...) dirigida por Oscar Eustin (...)" em: "Nessa adaptação, dirigida por Oscar Eustin, o personagem-título tinha uma cabeleira desbotada (...)":

- A) Oração subordinada substantiva objetiva indireta.
- B) Oração subordinada adjetiva explicativa reduzida do participio.
- C) Oração principal.
- D) Oração subordinada adjetiva restritiva.
- E) Oração subordinada adverbial causal.

Questão 17

"(...) e projetamos o mundo, como o vemos em suas páginas", sobre o fragmento só não se pode afirmar:

- A) que há índice de comprometimento do emissor.
- B) que a colocação do pronome em próclise é obrigatória.
- C) que o "como" é conjunção comparativa.
- D) que a vírgula é opcional nessa estrutura.
- E) que o "o" é anafórico de mundo.

Utilize o excerto seguinte para responder as questões 08 e 09: "Tragédias não são panfletos, e obras que se exaurem em mensagens inequívocas dificilmente continuarão a causar deleite e fúria (...)"

Questão 08

O emprego da vírgula no fragmento:

- A) é correto pela mudança de sujeito das orações.
- B) é obrigatório para separar as orações coordenadas sindéticas
- C) está indevido, pois não se usa vírgula diante do "e".
- D) está assinalando o deslocamento da oração adverbial.
- E) está pontuando uma oração intercalada.

Questão 09

Sobre a colocação do pronome em "que se exaurem", pode-se afirmar:

- A) A colocação enclítica deve-se à conjunção integrante.
- B) A colocação mesoclítica seria correta.
- C) A colocação proclítica deve-se à conjunção subordinativa.
- D) A colocação proclítica deve-se ao pronome relativo.
- E) A colocação enclítica é opcional.

Questão 10





"Não, Shakespeare não precisa de terno e gravata para ser atual (...)". Há um erro na classificação morfológica em:

- A) A frase apresenta dois advérbios.
- B) Há três substantivos na frase.
- C) Há dois verbos de regências diversas.
- D) Há uma preposição e uma conjunção no fragmento.
- E) "para" é uma conjunção subordinativa condicional.

INFORMÁTICA

Questão 11

O Sistema Operacional Windows 8 é muito utilizado em todo mundo pela facilidade na sua utilização, pois podem ser feitas muitas operações nele. Para aqueles usuários mais avançados do sistema operacional, costuma-se utilizar teclas de atalho para se economizar tempo no passo a passo de uma operação a ser feita nele. Sobre teclas de atalho analise os itens a seguir e marque a alternativa correta:

- I- A tecla  +T irá bloquear a área de trabalho ou alternar o usuário.
- II- A tecla  +R irá abrir a janela Executar, onde se digitar o comando *cmd* e teclar ENTER, irá abrir o prompt de comando do Windows.
- III- A tecla  +F irá criar pastas e arquivos.
- IV- A tecla  +D recolhe todas as janelas ativas e mostra a área de trabalho.

Estão corretos:

- A) somente I, II e IV.
- B) somente I e III.
- C) somente II, III e IV.
- D) somente II e IV.
- E) I, II, III e IV.

Questão 12

As páginas de internet são fundamentais para o acesso à informação no ambiente digital. Já os browsers são muito importantes para a navegabilidade na Web (rede mundial de computadores), pois sem esses softwares o acesso ficaria dificultado. São exemplos de navegadores de internet:

- A) google hangouts, internet explorer e google drive.
- B) skype, opera e safari.

- C) safari, opera e google chrome.
- D) whatsapp, mozilla firefox e safari.
- E) internet explorer, twitter e instagram.

Questão 13

Relacione a Coluna 1 (Definição) com a Coluna 2 (terminologia) e marque a alternativa correta:

Coluna 1	Coluna 2
I- Programa que é disponibilizado para uso gratuito.	() freeware.
II- Programas que após um período de uso ou número de utilizações, perde algumas ou todas as suas funcionalidades.	() shareware.
III- Você pode testar o programa em sua totalidade, com todos os recursos, mas geralmente não poderá salvar ou exportar os trabalhos feitos.	() trial.

- A) I, II e III.
- B) II, III e I.
- C) I, III e II
- D) III, II e I.
- E) II, I e III.

Questão 14

Analise a figura a seguir, leia os itens e marque a alternativa correta:

	D2	f2		
	A	B	C	D
1	Processo	Movimentação	Valor	
2	1010-85.2009	Concluso	R\$ 2.000,00	
3	2020-55.2010	Carga	R\$ 12.000,00	
4	3030-55.2011	Despacho	R\$ 3.000,00	
5	4040-55.2012	Inicial	R\$ 3.000,00	
6				
7				

- I- A ação de clicar em D2 e digitar =SE(B2="Concluso";C2*30%) e, em seguida, pressionar ENTER, atribui o valor 600 à célula D2.
- II- Para atribuir o valor 5000 à célula D3 é suficiente realizar o seguinte procedimento: clicar na célula D3, digitar =SE(C2<=C3;MÉDIA(C2:C5)) e, em seguida, pressionar ENTER.
- III- O ato de clicar em célula D4 e digitar =SE(C2<=C3;SOMA(C2:C3);SOMA(C2:C5)) e em seguida, pressionar a tecla ENTER, atribui o valor 11000 à célula D4.
- IV- Para atribuir o valor 10000 à célula D5 é suficiente realizar o seguinte procedimento: clicar a célula D5, digitar =SE(MÉDIA(C2:C5)>=1000;MÁXIMO(C2:C5)) e, em seguida, pressionar a ENTER.

Estão corretos:

- A) I, II, III e IV.
- B) somente I e II.
- C) somente II, III e IV.
- D) somente I e IV.
- E) somente I, II e III.

Questão 15

Quanto à impressão de documentos no Microsoft Word, analise os itens a seguir e marque a alternativa correta:

- I- No Microsoft Word existe somente a opção 'Impressão Rápida' para o processo de impressão de documentos.
- II- Para exibir a caixa de diálogo 'Impressão Rápida' deve-se pressionar CTRL+R.

III- Para exibir a caixa de diálogo 'Imprimir' deve-se pressionar CTRL+P.

- A) somente o item I está correto.
- B) somente o item II está correto.
- C) somente o item III está correto.
- D) somente os itens II e III estão corretos.
- E) os itens I, II e III estão corretos.



HISTÓRIA DO MUNICÍPIO

Questão 10

Sobre a história do local onde atualmente fica localizado o Município de Ourém, analise os itens seguintes e marque a alternativa correta:

I- Uma cachoeira impediu o navegador Pedro Teixeira de subir ainda mais o rio Xingu, em 1.616. Luiz de Moura fez o mesmo percurso e no período de 1725 a 1727 construiu ao lado direito da dita cachoeira a casa forte que originou a vila de Ourém.

II- A Casa Forte de Luiz de Moura foi construída no período de 01/03/1725 e concluída em 1727, data esta considerada como fundamental para a existência do grande Município do rio Guamá.

III- O local da construção da casa-forte teria sido na praça da matriz, em terreno levemente alçado sobre o nível das águas do Guamá, à margem direita, junto à cachoeira.

IV- A Casa Forte de Luiz de Moura e embrião de Ourém era toda em madeira de lei e aparelhada de armamentos com toda segurança e formosura.

Estão corretos somente os itens:

- A) I, II e III.
- B) II, III e IV.
- C) I, III e IV.
- D) II e IV.
- E) I e III.

Questão 11

Sobre a posição de Ourém em relação à independência do Brasil, apenas não se pode afirmar:

- A) Ourém relutou muito em aceitar a independência do Brasil, custando muito a acatar o novo regime e a aclamar a soberania "do muito alto e Poderoso" Senhor D. Pedro, Primeiro Imperador do Brasil.
- B) Ourém pode ter sido o último Município do Brasil a se integrar à Independência Nacional.
- C) O Município de Ourém, mesmo após o Pará aderir a independência, continuava pagando impostos às Côrtes de Lisboa.
- D) Ourém só se convenceu da proclamação da Independência em 13/10/1827, quase um mês e meio depois.
- E) Conclui-se que a demora em aceitar a valência do "Grito do Ipiranga", garantiu-lhe, até que se prove o contrário, a fama de último e derradeiro a "jogar fora os laços" de Portugal.

Questão 12

Analisar as afirmações a seguir sobre a História de Ourém e marque a alternativa correta:

I- Em 1945, Ourém iniciou o período constitucional e durante a adaptação do novo sistema, Hermancio de Mendonça Alves, voltou a ser nomeado.

II- Hermancio de Mendonça Alves foi quem alojou as primeiras famílias oriundas do nordeste brasileiro, na localidade que viria a ser no futuro a sede do Município de São Miguel do Guamá.

III- A partir de 1948 foi eleito o primeiro prefeito: Humberto Fernandes dos Santos, eleito em 11/01/1948 e empossado em 08/02/1948, governando até 1951.

IV- Fernandes implantou o primeiro sistema de energia elétrica na cidade e trouxe as primeiras mudas de jameiro para o Município.

- A) As afirmações I e II estão corretas.
- B) As afirmações III e IV estão corretas.
- C) As afirmações II e III estão corretas.
- D) As afirmações II, III e IV estão corretas.
- E) Todas as afirmações estão corretas.

Questão 13

Pode-se afirmar que, no período de 1967 até 1971, muitas obras importantes foram feitas em Ourém, sendo elas, exceto:

- A) No dia 03/04/1967, os padres Barnabitas inauguram o Ginásio Estadual "Pe. Angelo Moretti" (GEPAM) onde seria o colégio São José.
- B) Ourém conheceu o primeiro sistema de abastecimento de água e esgoto (Serviço Autônomo de Água e Esgoto).
- C) Foi inaugurado o primeiro matadouro municipal.
- D) O então Governador do Estado Alacid da Silva Nunes asfaltou pela primeira vez a estrada PA-124.
- E) Em 1969, inaugurou a primeira ponte de madeira ligando os Municípios de Ourém e São Miguel do Guamá.

Questão 14

Sobre os aspectos gerais de Ourém, analise os itens seguintes e marque a alternativa correta:

I- O vasto território de Ourém, estabelecido pelo governador colonial Manoel Bernardo de Mello e Castro, através do ouvidor geral e corregedor da Comarca do Grão Pará, Dr. Feliciano Ramos Nobre Mourão em 29/05/1762, de tão grande que era, se limitava com o Município da Capital Belém, hoje, depois de muitas emancipações, se resume à extensão de 599,80 Km² (SEPLAN/ESTATÍSTICA).

II- A população de Ourém cresceu e diminuiu influenciada de acordo com o progresso da região ou das emancipações ocorridas, tendo seu apogeu no final dos anos 1980.

III- Há registros de que quando da criação de Ourém, em 1753, por Mendonça Furtado, este governador conseguiu reunir 150 índios, ocasião em que denominou a localidade de Vila de Ourém.

IV- A cidade dista da capital em linha reta em 143 Km e pela principal estrada de rodagem em 182 Km, pertencendo à Mesorregião Nordeste Paraense e a Microrregião Guamá e na antiga nomenclatura Região Guajarina.

- A) Apenas os itens I e II estão corretos.
- B) Apenas os itens II e III estão corretos.
- C) Apenas os itens III e IV estão corretos.
- D) Apenas os itens I, II e III estão corretos.
- E) Todos os itens estão corretos.



LEGISLAÇÃO

Responda as questões a seguir de acordo com a Lei Municipal n.º 1.936/2017:

Questão 15

De acordo com o art. 12, são condições indispensáveis para o provimento de cargo da prefeitura:

- I- a existência de vaga;
- II- a disponibilidade de horário;
- III- a previsão quantitativa de cargos;
- IV- a previsão orçamentária.

Marque a alternativa que só tenha os itens corretos:

- A) I, II e III.
- B) II, III e IV.
- C) I e IV.
- D) I, III e IV.
- E) II e IV.

Questão



Sobre a possibilidade de ser fixada idade máxima para a realização de concurso público, conforme as regras do parágrafo 12 do art. 18, analise os itens seguintes e marque a alternativa correta:

I- A fixação de idade máxima é permitida apenas nos casos em que o desempenho normal das funções do cargo exija condição etária determinada.

II- É vedada a previsão de idade inferior à apresentada por servidores na ativa lotados em cargos iguais aos oferecidos no certame.

III- É permitida a fixação de idade máxima apenas nos concursos públicos que envolvem a área de segurança pública.

- A) Apenas o item I está correto.
- B) Apenas o item II está correto.
- C) Apenas o item III está correto.
- D) Apenas os itens I e II estão corretos.
- E) Apenas os itens I e III estão corretos.

Questão



Nos termos do art. 28, a nomeação do Servidor Público será efetivada:

- A) em Comissão, quando se tratar de cargos integrantes dos Grupos Ocupacionais.
- B) em caráter efetivo, quando se tratar de cargos de livre nomeação e exoneração pelo Chefe do Poder Executivo Municipal.
- C) em Comissão, após prévia aprovação em concurso público.
- D) em caráter efetivo, quando se tratar de cargos integrantes dos Grupos Permanentes.
- E) em Comissão, quando se tratar de cargos de livre nomeação e exoneração pelo Chefe do Poder Executivo Municipal.

Questão



Conforme preceitua o art. 39 e seu inciso I, para o desenvolvimento do servidor público municipal, no cargo que ocupa, serão observados alguns princípios, dentre eles o da valorização do profissional da administração pública municipal, que pressupõe, exceto:

- A) Estatuto do Servidor Público.
- B) Gestão democrática.
- C) Capacitação profissional.
- D) Estabelecimento de normas e critérios para fins de progressão no cargo.
- E) Remuneração compatível com a complexidade das tarefas atribuídas ao servidor e o nível de responsabilidade dele exigido para desempenhar com eficiência as atribuições do cargo que ocupa.

Questão



Além do vencimento e de outras previstas em Lei, o servidor municipal poderá, nos termos do art. 53 e seus incisos, perceber as seguintes vantagens:

I- adicional de insalubridade, de risco de vida ou periculosidade para servidores que trabalhem habitualmente em locais insalubres ou em contato permanente com substâncias radioativas ou com risco de vida.

II- adicional por extensão da jornada de trabalho: quando autorizado e nos limites especificados em lei, à razão de 50% (cinquenta por cento) sobre a hora normal.

III- adicional noturno, quando a jornada de trabalho ocorrer entre 22 (vinte e duas) horas de um dia e 05 (cinco) horas do dia subsequente, à razão de 25% (vinte e cinco por cento) acima da hora extra diurna.

IV- gratificação por exercício de função entre 10%(Dez por cento) e 70%(Setenta por cento) sobre o vencimento base do servidor, atribuída pelo Chefe do Executivo a servidores no exercício de funções e cargos intermediários, constantes do Anexo V da Lei Municipal n.º 1.936/2017.

Após a análise das afirmações, marque a alternativa correta:

- A) Apenas as afirmações I e II estão corretas.
- B) Apenas as afirmações II e III estão corretas.
- C) Apenas as afirmações III e IV estão corretas.
- D) Apenas as afirmações I, II e III estão corretas.
- E) Todas as afirmações estão corretas.

Questão



De acordo com o estabelecido no art. 55 e seus incisos, o enquadramento do servidor nos grupos, cargos, classes e referências do Plano de Cargos e Salários instituído pela Lei Municipal n.º 1.936/2017, dar-se-á após prévia análise dos seguintes itens, exceto:

- A) Situação Funcional progressiva do servidor.
- B) Correspondência das atribuições dos cargos e funções atualmente ocupados com as atribuições dos cargos criados neste Plano.
- C) Atendimento aos requisitos exigidos para o provimento dos cargos.
- D) A lotação ideal de cargos, necessária ao funcionamento dos órgãos e entidades da Administração Pública Municipal.
- E) Os recursos orçamentários e financeiros disponíveis.

Questão



Nos termos do art. 43 e seus incisos, para avaliação do desempenho do servidor, a ser regulamentada por ato do Poder Executivo municipal, deverá ser considerado, dentre outros, os seguintes critérios:

- I- conjugação de conhecimentos teóricos e práticos;
- II- sociabilidade;
- III- desenvolvimento profissional;
- IV- equilíbrio físico.

Estão corretos apenas os itens:

- A) I e II.
- B) II e III.
- C) III e IV.
- D) I, II e III.
- E) II, III e IV.


Questão



No que diz respeito ao "Exercício" previsto no art. 35 e seus parágrafos, analise os itens seguintes e marque a alternativa correta:


- I- Exercício é o efetivo desempenho das atribuições e responsabilidades do cargo para o qual foi nomeado e empossado o servidor.
- II- O exercício deverá ocorrer dentro do prazo de 03 (três) dias contados da data da posse, no caso de nomeação e, da publicação oficial do ato, nos demais casos.
- III- Será exonerado o servidor empossado que não entrar em exercício no prazo previsto no item II.

- A) Apenas o item I está correto.
- B) Apenas o item II está correto.
- C) Apenas o item III está correto.
- D) Apenas os itens I e II estão corretos.
- E) Todos os itens estão corretos.

Questão 

Conforme preceitua o art. 30 e seu parágrafo único, a nomeação para cargo de provimento efetivo, sujeita o servidor nomeado ao cumprimento dos requisitos do estágio probatório, obedecendo ao prazo de 03 (três) anos. A aquisição da estabilidade ficará condicionada à:

- A) avaliação geral de desempenho, realizada por Comissão do Grupo Ocupacional.
- B) avaliação especial de desempenho, realizada por Comissão instituída para essa finalidade.
- C) elaboração de Relatório anual pelo servidor e avaliado pelo chefe do poder executivo municipal.
- D) elaboração de Relatório anual pelo servidor e avaliado por Comissão especial.
- E) entrega de produtividade do servidor à Comissão especial.

Questão 

Qual a terminologia atribuída, nos termos do art. 54, ao órgão de apoio técnico à administração municipal, com a finalidade de orientar a implantação e operacionalização do Plano de Carreira, em especial, proceder a aplicação de critérios de avaliação especial de desempenho do servidor em estágio probatório, e dos critérios para promoção na carreira?

- A) Comissão de Acompanhamento do Plano de Cargos e Salários dos Servidores Públicos do Município de Ourém.
- B) Diretoria de Acompanhamento do Plano de Cargos e Salários dos Servidores Públicos do Município de Ourém.
- C) Setor de Administração do Plano de Cargos e Salários dos Servidores Públicos do Município de Ourém.
- D) Comissão de Gestão do Plano de Cargos e Salários dos Servidores Públicos do Município de Ourém.
- E) Secretaria de Gestão do Plano de Cargos e Salários dos Servidores Públicos do Município de Ourém.



CONHECIMENTOS ESPECÍFICOS

Questão 

Sobre a abordagem construtivista, assinale a afirmativa incorreta.

- A) O jogo, por apresentar formatos pré-estabelecidos, não se adequa bem a essa abordagem.
- B) Os alunos devem ter participação ativa na solução de problemas.
- C) O conhecimento é construído a partir da interação com o meio em que o aluno vive.
- D) A Educação Física pode auxiliar na construção do conhecimento em outras disciplinas.
- E) A aplicação dessa abordagem é maior na faixa etária até os 10-11 anos.

Questão 

Três blocos de conteúdos, segundo os PCNs, estão organizados e deverão ser desenvolvidos ao longo de todo o ensino fundamental. Quais são esses conteúdos?

- A) Habilidades fundamentais / Habilidades motoras / Capacidades motoras.
- B) Esportes, jogos, lutas e ginásticas / Atividades rítmicas e expressivas / Conhecimento sobre o corpo.
- C) Esportes, jogos e ginásticas / Dança e capoeira / Atividades lúdicas.

- D) Conhecimento sobre o corpo / Capacidades fundamentais / Capacidades motoras.
- E) Habilidades fundamentais / Capacidade física / Atividades expressivas.

Questão 

Os padrões fundamentais de movimento podem ser classificados em:

- A) locomoção, afetivo e motor.
- B) locomoção, andar e manipulação.
- C) locomoção, manipulação e equilíbrio.
- D) andar, afetivo e cognitivo.
- E) equilíbrio, manipulação e afetivo.

Questão 

As aulas de Educação Física na escola têm utilizado quase que exclusivamente as quadras e materiais esportivos, como bolas e redes. Sugerimos a ampliação dos espaços possíveis para as aulas, ou a transformação de um espaço para atender um maior número de alunos. (Darido e Rangel, 2005). As opções a seguir estão de acordo com a proposta das autoras, exceto:

- A) Divisão da quadra em duas.
- B) Utilização dos espaços vizinhos à escola para as aulas.
- C) Reciclagem de equipamentos esportivos gastos.
- D) Coleta seletiva de material reciclável.
- E) Confecção de equipamentos com material alternativo.

Questão 


A obesidade é um problema de saúde mundial que tem crescido, no mundo todo, entre crianças e adolescentes. A esse respeito, analise as afirmativas a seguir e marque a alternativa correta:

- I- O nível elevado da glicemia sanguínea aumenta a resistência à insulina, levando ao diabetes tipo I.
 - II- A atividade física apresenta um impacto mínimo em um programa de emagrecimento.
 - III- A adição do exercício de força, no programa de um obeso, pode prevenir a perda de massa muscular associada ao emagrecimento.
- A) Apenas a afirmativa I está correta.
 - B) Apenas a afirmativa II está correta.
 - C) Apenas as afirmativas I e III estão corretas.
 - D) Apenas as afirmativas I e II estão corretas.
 - E) Apenas a afirmativa III está correta.

Questão 

Os PCNs para a área da Educação Física escolar trazem como contribuição para a reflexão e discussão da prática pedagógica os seguintes princípios fundamentais:

- A) da inclusão, da diversidade e categorias de conteúdos.
- B) das categorias de conteúdos, da diversidade e das forças físicas.
- C) da diversidade, morais e psíquicas.
- D) das forças físicas, morais e psíquicas.
- E) da diversidade, categoria de conteúdos e morais.

Questão 

A partir da década de 1980, surgem novos movimentos na Educação Física escolar inspirados no novo momento histórico social do Brasil. Assinale a opção que não representa qualquer abordagem pedagógica da Educação Física escolar surgida nessa época:

- A) Desenvolvimentista, construtivista, crítico-superadora.
- B) Tecnicista, biologicista, esportivista.

- C) Sistemica, psicomotricidade, crítico-emancipatória.
 D) Crítico-superadora, jogos cooperativos, saúde renovada.
 E) Construtivista, crítico-superadora, crítico-emancipatória.

Questão 38

Relacione as dimensões apresentadas a seguir às respectivas atividades descritas.

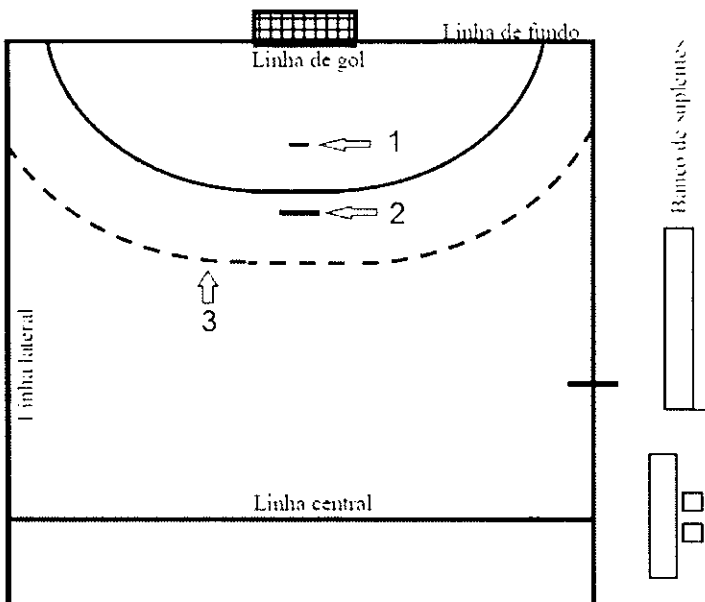
1. Conceitual
 2. Procedimental
 3. Atitudinal
- () Discussão sobre as consequências de uma postura violenta na sociedade. .
 () Execução da técnica de projeção conhecida como *O Goshi*.
 () Realizar uma pesquisa sobre as duas vertentes da Capoeira.
 () Análise da biomecânica do soco direto do boxe.

Assinale a opção que indica a relação correta, de cima para baixo.

- A) 1-2-3-3
 B) 1-3-3-2
 C) 3-2-1-1
 D) 2-2-1-3
 E) 3-1-2-2

Questão 39

A figura a seguir representa meia quadra de handebol. As linhas identificadas pelos números 1, 2 e 3 são denominadas, respectivamente:



- A) linha do pênalti, linha de tiro livre e linha da área do goleiro.
 B) linha de limitação do goleiro, linha de tiro livre e linha de 7 metros.
 C) linha de tiro livre, linha de pênalti e linha da área do goleiro.
 D) linha de limitação do goleiro, linha de 7 metros e linha de tiro livre.
 E) linha de tiro livre, linha de 7 metros e linha de limitação do goleiro

Questão 40

As afirmativas a seguir se referem às diferenças na resposta das crianças ao exercício, em relação à resposta dos adultos. A esse respeito, assinale V para afirmativa verdadeira e F para a falsa.

- () Frequência respiratória mais alta nas crianças.
 () Pressão arterial mais baixa nas crianças.
 () Frequência cardíaca mais baixa nas crianças.

As afirmativas são, respectivamente:

- A) F, V e V.
 B) V, F e F.
 C) F, F e V.
 D) V, F e V.
 E) V, V e F.

Questão 41

Sobre a compreensão do esquema corporal, segundo Mattos e Neira (1999), assinale V para a afirmativa verdadeira e F para a falsa.

- () Respiração é a troca gasosa com o meio, intimamente ligada à atenção.
 () Relaxamento é a capacidade de descontração da musculatura.
 () Postura é o posicionamento do corpo em movimento esportivo.

As afirmativas são, respectivamente:

- A) F, V e F.
 B) V, V e V.
 C) V, F e F.
 D) V, F e V.
 E) F, F e V.

Questão 42

Quando existem na escola alunos(as) com deficiência física, os(as) professores(as) de Educação Física devem:

- A) deixá-los de fora da aula.
 B) fazer adaptações, criando situações que possibilitem sua participação nas aulas.
 C) somente solicitar-lhes trabalhos teóricos sobre atividade física.
 D) fazê-los compreender suas deficiências que lhe impedem de fazer aula.
 E) inscrevê-los em turmas especiais.

Questão 43

Relacione as habilidades motoras a seguir às suas respectivas características.

1. Habilidades motoras globais
 2. Habilidades motoras finas
- () Habilidades que envolvem grandes musculaturas.
 () Futebol.
 () Desenho à mão livre.
 () Habilidades que requerem movimentos de partes limitadas do corpo.

Assinale a opção que indica a sequência correta, de cima para baixo.

- A) 2-2-1-1.
 B) 1-2-2-1.
 C) 1-1-2-2.
 D) 1-2-2-2.
 E) 2-1-1-2.

Questão 44

Sobre as regras do Voleibol, assinale a opção correta.

- A) Uma partida de voleibol é composta por cinco sets, vencendo a equipe que ganhar o maior número de sets.
 B) No voleibol, o capitão da equipe é chamado de líbero.
 C) Se um jogador de cada equipe cometer uma falta simultaneamente, as duas equipes marcam um ponto.
 D) Se o árbitro notar erro na ordem dos jogadores em quadra, antes do início do set, o erro é corrigido e a equipe não é punida.
 E) Quando a bola toca o solo do lado da quadra adversária, as duas equipes marcam um ponto.

Questão 45

Considera-se a dança como uma expressão representativa de diversos aspectos da vida do ser humano. Pode ser tida como linguagem social que permite a transmissão de sentimentos, emoções, religiosidade, trabalho, guerra etc. (Coletivo de Autores. Metodologia do ensino de educação física. São Paulo: Cortez, 1992). De acordo com a obra, marque V para a afirmativa verdadeira e F para a falsa.

() Algumas formas de dança utilizam símbolos próprios das culturas que pertencem, o que as torna de difícil compreensão e interpretação.

() A escola também pode oferecer outras formas de expressão corporal, como por exemplo, a mímica, contribuindo para o desenvolvimento da expressão corporal e comunicativa dos alunos.

() No ensino da dança é recomendável uma abordagem de totalidade, na qual as diferentes disciplinas podem contribuir.

Assinale a alternativa que apresenta a sequência correta de cima para baixo.

- A) F, F, F.
- B) V, V, F.
- C) F, V, V.
- D) F, V, F.
- E) V, V, V.

Questão 46

Relacione as afirmativas a seguir à respectiva abordagem pedagógica.

1. Construtivista
2. Crítica
3. Desenvolvimentista

() A aquisição do conhecimento é um processo desenvolvido pelo indivíduo durante toda a sua vida, não sendo adquirido passivamente de acordo com as pressões do meio.

() A utilização da prática motora com o objetivo de desenvolver capacidades que auxiliem a alfabetização e o pensamento lógico-matemático é questionada.

() A Educação Física está atrelada à construção de uma sociedade com menos desigualdade, obtida por transformações sociais, políticas e econômicas.

Assinale a opção que indica a relação correta, de cima para baixo.

- A) 1 - 3 - 2
- B) 3 - 1 - 2
- C) 3 - 2 - 1
- D) 2 - 3 - 1
- E) 1 - 2 - 3

Questão 47

Nas aulas de Educação Física deve-se trabalhar enfatizando os seguintes princípios pedagógicos:

- A) Seletividade e psicomotricidade.
- B) Ludicidade e criatividade.
- C) Liderança e competitividade.
- D) Lateralidade e diferença.
- E) Confiança e vitória.

Questão 48

A existência de uma sequência normal nos processos de crescimento e desenvolvimento da aprendizagem motora é a tônica da obra de qual autor da Educação Física brasileira?

- A) Santin.
- B) Medina.
- C) Go Tani.
- D) Bracht.
- E) Taffarel.

Questão 49

Associe os tipos de conteúdo listados a seguir aos respectivos conceitos implementados numa aula de basquetebol na escola.

1. Conteúdos Conceituais
2. Conteúdos Procedimentais
3. Conteúdos Atitudinais

() Correspondem ao compromisso do(a) professor(a): promover ações e estratégias capazes de implementar a aprendizagem dos fundamentos básicos do basquetebol.

() Correspondem ao compromisso científico do(a) professor(a): transmitir o conhecimento socialmente produzido sobre a história do basquetebol.

() Correspondem ao compromisso filosófico do(a) professor(a): promover aspectos que nos completam como seres humanos a partir da vivência solidária do jogo coletivo do basquetebol.

Assinale a opção que apresenta a relação correta, de cima para baixo.

- A) 1 - 1 - 3
- B) 2 - 1 - 1
- C) 3 - 1 - 2
- D) 2 - 1 - 3
- E) 2 - 3 - 1

Questão 50

Na Educação Física adaptada para pessoas com deficiência existem vários motivos para que se faça avaliação. No caso da Educação física para inclusão, há duas razões principais:

- A) avaliar flexão isométrica e postura corporal da pessoa com deficiência.
- B) avaliar a pessoa com deficiência em padrões de normalidade e promover sua inclusão.
- C) avaliar dribles com bola e não monitorar a evolução do aluno.
- D) diminuir a fidedignidade e a relevância funcional.
- E) avaliar necessidades especiais e estabelecimento de uma base para inclusão.

