

NÍVEL SUPERIOR COMPLETO

CARGO 30: NUTRICIONISTA

FUNDAÇÃO
CEIAP



Prefeitura Municipal de Ourém

INSTRUÇÕES ESPECIAIS

- 01** Você está recebendo o seu Caderno de Questões, contendo 50 (cinquenta) questões objetivas de múltipla escolha, numeradas de 01 a 50, em ordem sequencial. Confira a sequência numérica de seu Caderno de Questões antes de iniciar a resolução, assim como o número de páginas, comunicando, imediatamente, ao Fiscal de Sala, em caso de repetição ou ausência de questão ou página.
- 02** Você deve conferir, na capa do Caderno de Questões e no rodapé das páginas internas, o cargo a que o Caderno de Questões se refere. Caso você tenha recebido um Caderno de Questões que não corresponda ao mesmo cargo descrito no seu Cartão Resposta, comunique imediatamente ao Fiscal de Sala e exija o Caderno de Questões correto.
- 03** As respostas das questões objetivas de múltipla escolha do Caderno de Questões deverão ser transcritas para o Cartão Resposta com caneta esferográfica de tinta azul ou preta fabricada em material transparente.
- 04** Para cada questão da Prova Objetiva de Múltipla Escolha existirão 05 (cinco) alternativas de resposta (A, B, C, D e E), das quais apenas uma será correta, de acordo com o comando da questão. A marcação de mais de uma no Cartão Resposta anula, automaticamente, a resposta da questão.
- 05** O tempo máximo disponível para realização da prova é de 3h30 (três horas e trinta minutos), já incluído o tempo destinado à identificação e ao preenchimento do Cartão Resposta.
- 06** Somente depois de decorridos 60 minutos do início da prova, o candidato poderá entregar o seu Caderno de Questões e o seu Cartão Resposta, e retirar-se da sala de prova.
- 07** Os 3 (três) últimos candidatos só poderão sair da sala de prova juntos.
- 08** Será permitido ao candidato levar consigo o Caderno de Questões e o Gabarito desde que nos últimos 30 (trinta) minutos antes do término da prova.

ATENÇÃO

Escreva no espaço apropriado do **Cartão Resposta**, com a sua caligrafia usual, a seguinte “frase mestra” de Goethe:

“A alegria não está nas coisas, está em nós.”

A transcrição da “frase mestra” é obrigatória e servirá para identificar o Cartão Resposta do candidato, bem como possibilitar o Exame Pericial Grafotécnico, quando for o caso. A falta da transcrição poderá ocasionar a eliminação do candidato no presente concurso público.

PREFEITURA MUNICIPAL DE OURÉM/PA
CONCURSO PÚBLICO Nº 01/2017



LÍNGUA PORTUGUESA

Leia o texto e responda o que se pede no comando das questões:

A Trump o que é de César.

Há algumas semanas, um sujeito muito parecido com Donald Trump levou 33 punhaladas no meio do Central Park, em Nova York. O sangue era cênico e os punhais eram falsos, mas o furor causado pela encenação nada teve de figurativo. Entre 23 de maio e 18 de junho, milhares de pessoas enfrentaram filas para assistir ao assassinato, enquanto outras tantas campeavam a internet denunciando a peça como apologia do terror político. Nada mau, repare-se, para um texto que anda entre nós há mais de 400 anos: o espetáculo em questão é uma montagem de Júlio César, peça escrita por William Shakespeare em 1599. Nessa adaptação, dirigida por Oskar Eustin, o personagem-título tinha uma cabeleira desbotada e usava terno azul, com gravata vermelha mais comprida que o aconselhável; sua esposa, Calpúrnica, falava com reconhecível sotaque eslavo. Um sócio presidencial encharcado de sangue é visão que não poderia passar incólume em um país que já teve quatro presidentes assassinados: após as primeiras sessões, patrocinadores cancelaram seu apoio, fãs do presidente interromperam a peça aos gritos, e e-mails de ódio choveram sobre companhias teatrais que nada tinham a ver com o assunto - exceto pelo fato de carregarem a palavra "Shakespeare" no nome.

Trocar togas por ternos não é ideia nova. Orson Welles fez isso em 1973, no Mercury Theater de Nova York; nessa célebre montagem, o ditador romano ganhou ares de Mussolini e foi esfaqueado pelo próprio Welles, que interpretava Brutus. Nas décadas seguintes, outras figuras modernas emprestaram traços e trejeitos ao personagem: entre elas, Charles de Gaulle, Fidel Castro e Nicolae Ceausescu. Atualizações como essas expandem, mas não esgotam, o texto de Shakespeare - é muito difícil determinar, pela leitura da peça, se a intenção do bardo era louvar, condenar ou apenas retratar, com imparcialidade, os feitos sanguinolentos dos Idos de Março. Por conta dessa neutralidade filosófica, a tarefa de identificar o protagonista da peça é famosamente complicada: há quem prefira Brutus; há que escolha Marco Antônio ou até o velho Júlio.

O texto, como bom texto, não corrobora nem refuta: ele nos observa. Tragédias não são panfletos, e obras que se exaurem em mensagens inequívocas dificilmente continuarão a causar deleite e fúria quatro séculos após terem sido escritas. Em certo sentido, a boa literatura é uma combinação bem-sucedida de exatidão e ambiguidade: se os versos de Shakespeare ainda causam tamanho alvoroço, é porque desencadeiam interpretações inesgotáveis e, às vezes, contraditórias, compelindo o sucessivo universo humano a se espelhar em suas linhas. Ao adaptar a grande literatura do passado ao nosso tempo, também nós nos adaptamos a ela: procuramos formas de comunicar o misterioso entusiasmo que essas obras nos causam e projetamos o mundo, como o vemos em suas páginas.

Não, Shakespeare não precisa ter terno e gravata para ser atual - mas se o figurino cai bem, por que não vesti-lo?

(Fonte: BOTELHO, José Francisco. Revista VEJA. Data: 18 de julho de 2017)

Questão 01

"A Trump o que é de César", com esse texto, o autor:

- A) quer exaltar a grande obra de Shakespeare.
- B) faz um jogo de palavras, denunciando a agressividade europeia.

- C) demonstra a atualidade do teatro na exaltação de governantes.
- D) parece concordar que o presidente americano mereceria morrer.
- E) mostra a unanimidade americana contra o presidente Donald Trump.

Questão 12

A relação do vocábulo e seu sinônimo está indevida no seguinte contexto:

- A) assassinato (primeiro parágrafo) - assassinio.
- B) campeavam (primeiro parágrafo) - andar pelo mato.
- C) bardo (segundo parágrafo) - poeta.
- D) corrobora (terceiro parágrafo) - comprova.
- E) refuta (terceiro parágrafo) - desmente.

Questão 13

Alguns verbos rigorosamente impessoais quando usados no sentido figurado sofrem variações. Isso ocorre em:

- A) "Há algumas semanas (...)"
- B) "(...) milhares de pessoas enfrentaram filas (...)"
- C) "(...) e-mails de ódio choveram sobre companhias teatrais (...)"
- D) "(...) mas, se o figurino cai bem (...)"
- E) "(...) sua esposa, Calpúrnica, falava com reconhecível sotaque eslavo."

Questão 14

Observe as regências verbais no excerto e assinale a alternativa com análise correta: "(...) milhares de pessoas enfrentaram filas para assistir ao assassinato (...)"

- A) O complemento do verbo enfrentar pode ser o pronome "la".
- B) Os verbos enfrentar e assistir têm a mesma regência.
- C) O verbo assistir, no sentido de presenciar, exige a preposição "a".
- D) O objeto "ao assassinato" pode ser substituído por "lhe".
- E) O verbo enfrentar apresenta-se como intransitivo.

Questão 15

Marque a alternativa que indique corretamente a figura de linguagem:

- A) "Trocar togas por terno não é ideia nova." (metonímia)
- B) "(...) não corrobora nem refuta (...)" (zeugma)
- C) "(...) mais comprida que o aconselhável". (hipérbole)
- D) "(...) para um texto que anda entre nós (...)" (metáfora)
- E) "(...) e projetamos o mundo (...)" (silepse de pessoa)

Questão 16

Assinale a alternativa que analise corretamente a oração "(...) dirigida por Oscar Eustin (...)" em: "Nessa adaptação, dirigida por Oscar Eustin, o personagem-título tinha uma cabeleira desbotada (...)":

- A) Oração subordinada substantiva objetiva indireta.
- B) Oração subordinada adjetiva explicativa reduzida do participio.
- C) Oração principal.
- D) Oração subordinada adjetiva restritiva.
- E) Oração subordinada adverbial causal.

Questão 17

"(...) e projetamos o mundo, como o vemos em suas páginas", sobre o fragmento só não se pode afirmar:

- A) que há índice de comprometimento do emissor.
- B) que a colocação do pronome em próclise é obrigatória.
- C) que o "como" é conjunção comparativa.
- D) que a vírgula é opcional nessa estrutura.
- E) que o "o" é anafórico de mundo.

Utilize o excerto seguinte para responder as questões 08 e 09: "Tragédias não são panfletos, e obras que se exaurem em mensagens inequívocas dificilmente continuarão a causar deleite e fúria (...)"

Questão 08

- O emprego da vírgula no fragmento:
- A) é correto pela mudança de sujeito das orações.
 - B) é obrigatório para separar as orações coordenadas sindéticas
 - C) está indevido, pois não se usa vírgula diante do "e".
 - D) está assinalando o deslocamento da oração adverbial.
 - E) está pontuando uma oração intercalada.

Questão 09

- Sobre a colocação do pronome em "que se exaurem", pode-se afirmar:
- A) A colocação enclítica deve-se à conjunção integrante.
 - B) A colocação mesoclítica seria correta.
 - C) A colocação proclítica deve-se à conjunção subordinativa.
 - D) A colocação proclítica deve-se ao pronome relativo.
 - E) A colocação enclítica é opcional.





Questão 10

- "Não, Shakespeare não precisa de terno e gravata para ser atual (...)". Há um erro na classificação morfológica em:
- A) A frase apresenta dois advérbios.
 - B) Há três substantivos na frase.
 - C) Há dois verbos de regências diversas.
 - D) Há uma preposição e uma conjunção no fragmento.
 - E) "para" é uma conjunção subordinativa condicional.

INFORMÁTICA

Questão 11

O Sistema Operacional Windows 8 é muito utilizado em todo mundo pela facilidade na sua utilização, pois podem ser feitas muitas operações nele. Para aqueles usuários mais avançados do sistema operacional, costuma-se utilizar teclas de atalho para se economizar tempo no passo a passo de uma operação a ser feita nele. Sobre teclas de atalho analise os itens a seguir e marque a alternativa correta:

- I- A tecla  +T irá bloquear a área de trabalho ou alternar o usuário.
 - II- A tecla  +R irá abrir a janela Executar, onde se digitar o comando *cmd* e teclar ENTER, irá abrir o prompt de comando do Windows.
 - III- A tecla  +F irá criar pastas e arquivos.
 - IV- A tecla  +D recolhe todas as janelas ativas e mostra a área de trabalho.
- Estão corretos:
- A) somente I, II e IV.
 - B) somente I e III.
 - C) somente II, III e IV.
 - D) somente II e IV.
 - E) I, II, III e IV.

Questão 12

- As páginas de internet são fundamentais para o acesso à informação no ambiente digital. Já os browsers são muito importantes para a navegabilidade na Web (rede mundial de computadores), pois sem esses softwares o acesso ficaria dificultado. São exemplos de navegadores de internet:
- A) google hangouts, internet explorer e google drive.
 - B) skype, opera e safari.

- C) safari, opera e google chrome.
- D) whatsapp, mozilla firefox e safari.
- E) internet explorer, twitter e instagram.

Questão 13

Relacione a Coluna 1 (Definição) com a Coluna 2 (terminologia) e marque a alternativa correta:

Coluna 1	Coluna 2
I- Programa que é disponibilizado para uso gratuito.	() freeware.
II- Programas que após um período de uso ou número de utilizações, perde algumas ou todas as suas funcionalidades.	() shareware.
III- Você pode testar o programa em sua totalidade, com todos os recursos, mas geralmente não poderá salvar ou exportar os trabalhos feitos.	() trial.

- A) I, II e III.
- B) II, III e I.
- C) I, III e II
- D) III, II e I.
- E) II, I e III.

Questão 14

Analise a figura a seguir, leia os itens e marque a alternativa correta:

	D2		f*	
	A	B	C	D
1	Processo	Movimentação	Valor	
2	1010-85.2009	Concluso	R\$ 2.000,00	
3	2020-55.2010	Carga	R\$ 12.000,00	
4	3030-55.2011	Despacho	R\$ 3.000,00	
5	4040-55.2012	Inicial	R\$ 3.000,00	
6				
7				

- I- A ação de clicar em D2 e digitar =SE(B2="Concluso";C2*30%) e, em seguida, pressionar ENTER, atribui o valor 600 à célula D2.
- II- Para atribuir o valor 5000 à célula D3 é suficiente realizar o seguinte procedimento: clicar na célula D3, digitar =SE(C2<=C3;MÉDIA(C2:C5)) e, em seguida, pressionar ENTER.
- III- O ato de clicar em célula D4 e digitar =SE(C2<=C3;SOMA(C2:C3);SOMA(C2:C5)) e em seguida, pressionar a tecla ENTER, atribui o valor 11000 à célula D4.
- IV- Para atribuir o valor 10000 à célula D5 é suficiente realizar o seguinte procedimento: clicar a célula D5, digitar =SE(MÉDIA(C2:C5)>=1000;MÁXIMO(C2:C5)) e, em seguida, pressionar a ENTER.

- Estão corretos:
- A) I, II, III e IV.
 - B) somente I e II.
 - C) somente II, III e IV.
 - D) somente I e IV.
 - E) somente I, II e III.

Questão 15

- Quanto à impressão de documentos no Microsoft Word, analise os itens a seguir e marque a alternativa correta:
- I- No Microsoft Word existe somente a opção 'Impressão Rápida' para o processo de impressão de documentos.
 - II- Para exibir a caixa de diálogo 'Impressão Rápida' deve-se pressionar CTRL+R.

III- Para exibir a caixa de diálogo 'Imprimir' deve-se pressionar CTRL+P.

- A) somente o item I está correto.
- B) somente o item II está correto.
- C) somente o item III está correto.
- D) somente os itens II e III estão corretos.
- E) os itens I, II e III estão corretos.



HISTÓRIA DO MUNICÍPIO

Questão



Sobre a história do local onde atualmente fica localizado o Município de Ourém, analise os itens seguintes e marque a alternativa correta:

I- Uma cachoeira impediu o navegador Pedro Teixeira de subir ainda mais o rio Xingu, em 1.616. Luiz de Moura fez o mesmo percurso e no período de 1725 a 1727 construiu ao lado direito da dita cachoeira a casa forte que originou a vila de Ourém.

II- A Casa Forte de Luiz de Moura foi construída no período de 01/03/1725 e concluída em 1727, data esta considerada como fundamental para a existência do grande Município do rio Guamá.

III- O local da construção da casa-forte teria sido na praça da matriz, em terreno levemente alçado sobre o nível das águas do Guamá, à margem direita, junto à cachoeira.

IV- A Casa Forte de Luiz de Moura e embrião de Ourém era toda em madeira de lei e aparelhada de armamentos com toda segurança e formosura.

Estão corretos somente os itens:

- A) I, II e III.
- B) II, III e IV.
- C) I, III e IV.
- D) II e IV.
- E) I e III.

Questão



Sobre a posição de Ourém em relação à independência do Brasil, apenas não se pode afirmar:

- A) Ourém relutou muito em aceitar a independência do Brasil, custando muito a acatar o novo regime e a aclamar a soberania "do muito alto e Poderoso" Senhor D. Pedro, Primeiro Imperador do Brasil.
- B) Ourém pode ter sido o último Município do Brasil a se integrar à Independência Nacional.
- C) O Município de Ourém, mesmo após o Pará aderir a independência, continuava pagando impostos às Côrtes de Lisboa.
- D) Ourém só se convenceu da proclamação da Independência em 13/10/1827, quase um mês e meio depois.
- E) Conclui-se que a demora em aceitar a valência do "Grito do Ipiranga", garantiu-lhe, até que se prove o contrário, a fama de último e derradeiro a "jogar fora os laços" de Portugal.

Questão



Analise as afirmações a seguir sobre a História de Ourém e marque a alternativa correta:

I- Em 1945, Ourém iniciou o período constitucional e durante a adaptação do novo sistema, Hermancio de Mendonça Alves, voltou a ser nomeado.

II- Hermancio de Mendonça Alves foi quem alojou as primeiras famílias oriundas do nordeste brasileiro, na localidade que viria a ser no futuro a sede do Município de São Miguel do Guamá.

III- A partir de 1948 foi eleito o primeiro prefeito: Humberto Fernandes dos Santos, eleito em 11/01/1948 e empossado em 08/02/1948, governando até 1951.

IV- Fernandes implantou o primeiro sistema de energia elétrica na cidade e trouxe as primeiras mudas de jambeiro para o Município.

- A) As afirmações I e II estão corretas.
- B) As afirmações III e IV estão corretas.
- C) As afirmações II e III estão corretas.
- D) As afirmações II, III e IV estão corretas.
- E) Todas as afirmações estão corretas.

Questão



Pode-se afirmar que, no período de 1967 até 1971, muitas obras importantes foram feitas em Ourém, sendo elas, exceto:

- A) No dia 03/04/1967, os padres Barnabitas inauguram o Ginásio Estadual "Pe. Angelo Moretti" (GEPAM) onde seria o colégio São José.
- B) Ourém conheceu o primeiro sistema de abastecimento de água e esgoto (Serviço Autônomo de Água e Esgoto).
- C) Foi inaugurado o primeiro matadouro municipal.
- D) O então Governador do Estado Alacid da Silva Nunes asfaltou pela primeira vez a estrada PA-124.
- E) Em 1969, inaugurou a primeira ponte de madeira ligando os Municípios de Ourém e São Miguel do Guamá.

Questão



Sobre os aspectos gerais de Ourém, analise os itens seguintes e marque a alternativa correta:

I- O vasto território de Ourém, estabelecido pelo governador colonial Manoel Bernardo de Mello e Castro, através do ouvidor geral e corregedor da Comarca do Grão Pará, Dr. Feliciano Ramos Nobre Mourão em 29/05/1762, de tão grande que era, se limitava com o Município da Capital Belém, hoje, depois de muitas emancipações, se resume à extensão de 599,80 Km² (SEPLAN/ESTATÍSTICA).

II- A população de Ourém cresceu e diminuiu influenciada de acordo com o progresso da região ou das emancipações ocorridas, tendo seu apogeu no final dos anos 1980.

III- Há registros de que quando da criação de Ourém, em 1753, por Mendonça Furtado, este governador conseguiu reunir 150 índios, ocasião em que denominou a localidade de Vila de Ourém.

IV- A cidade dista da capital em linha reta em 143 Km e pela principal estrada de rodagem em 182 Km, pertencendo à Mesorregião Nordeste Paraense e a Microrregião Guamá e na antiga nomenclatura Região Guajarina.

- A) Apenas os itens I e II estão corretos.
- B) Apenas os itens II e III estão corretos.
- C) Apenas os itens III e IV estão corretos.
- D) Apenas os itens I, II e III estão corretos.
- E) Todos os itens estão corretos.



LEGISLAÇÃO

Responda as questões a seguir de acordo com a Lei Municipal n.º 1.936/2017:

Questão



De acordo com o art. 12, são condições indispensáveis para o provimento de cargo da prefeitura:

- I- a existência de vaga;
- II- a disponibilidade de horário;
- III- a previsão quantitativa de cargos;
- IV- a previsão orçamentária.

Marque a alternativa que só tenha os itens corretos:

- A) I, II e III.
- B) II, III e IV.
- C) I e IV.
- D) I, III e IV.
- E) II e IV.

Questão 22

Sobre a possibilidade de ser fixada idade máxima para a realização de concurso público, conforme as regras do parágrafo 12 do art. 18, analise os itens seguintes e marque a alternativa correta:

I- A fixação de idade máxima é permitida apenas nos casos em que o desempenho normal das funções do cargo exija condição etária determinada.

II- É vedada a previsão de idade inferior à apresentada por servidores na ativa lotados em cargos iguais aos oferecidos no certame.

III- É permitida a fixação de idade máxima apenas nos concursos públicos que envolvem a área de segurança pública.

- A) Apenas o item I está correto.
- B) Apenas o item II está correto.
- C) Apenas o item III está correto.
- D) Apenas os itens I e II estão corretos.
- E) Apenas os itens I e III estão corretos.

Questão 23

Nos termos do art. 28, a nomeação do Servidor Público será efetivada:

- A) em Comissão, quando se tratar de cargos integrantes dos Grupos Ocupacionais.
- B) em caráter efetivo, quando se tratar de cargos de livre nomeação e exoneração pelo Chefe do Poder Executivo Municipal.
- C) em Comissão, após prévia aprovação em concurso público.
- D) em caráter efetivo, quando se tratar de cargos integrantes dos Grupos Permanentes.
- E) em Comissão, quando se tratar de cargos de livre nomeação e exoneração pelo Chefe do Poder Executivo Municipal.

Questão 24

Conforme preceitua o art. 39 e seu inciso I, para o desenvolvimento do servidor público municipal, no cargo que ocupa, serão observados alguns princípios, dentre eles o da valorização do profissional da administração pública municipal, que pressupõe, exceto:

- A) Estatuto do Servidor Público.
- B) Gestão democrática.
- C) Capacitação profissional.
- D) Estabelecimento de normas e critérios para fins de progressão no cargo.
- E) Remuneração compatível com a complexidade das tarefas atribuídas ao servidor e o nível de responsabilidade dele exigido para desempenhar com eficiência as atribuições do cargo que ocupa.

Questão 25

Além do vencimento e de outras previstas em Lei, o servidor municipal poderá, nos termos do art. 53 e seus incisos, perceber as seguintes vantagens:

I- adicional de insalubridade, de risco de vida ou periculosidade para servidores que trabalhem habitualmente em locais insalubres ou em contato permanente com substâncias radioativas ou com risco de vida.

II- adicional por extensão da jornada de trabalho: quando autorizado e nos limites especificados em lei, à razão de 50% (cinquenta por cento) sobre a hora normal.

III- adicional noturno, quando a jornada de trabalho ocorrer entre 22 (vinte e duas) horas de um dia e 05 (cinco) horas do dia subsequente, à razão de 25% (vinte e cinco por cento) acima da hora extra diurna.

IV- gratificação por exercício de função entre 10% (Dez por cento) e 70% (Setenta por cento) sobre o vencimento base do servidor, atribuída pelo Chefe do Executivo a servidores no exercício de funções e cargos intermediários, constantes do Anexo V da Lei Municipal n.º 1.936/2017.

Após a análise das afirmações, marque a alternativa correta:

- A) Apenas as afirmações I e II estão corretas.
- B) Apenas as afirmações II e III estão corretas.
- C) Apenas as afirmações III e IV estão corretas.
- D) Apenas as afirmações I, II e III estão corretas.
- E) Todas as afirmações estão corretas.

Questão 26

De acordo com o estabelecido no art. 55 e seus incisos, o enquadramento do servidor nos grupos, cargos, classes e referências do Plano de Cargos e Salários instituído pela Lei Municipal n.º 1.936/2017, dar-se-á após prévia análise dos seguintes itens, exceto:

- A) Situação Funcional progressiva do servidor.
- B) Correspondência das atribuições dos cargos e funções atualmente ocupados com as atribuições dos cargos criados neste Plano.
- C) Atendimento aos requisitos exigidos para o provimento dos cargos.
- D) A lotação ideal de cargos, necessária ao funcionamento dos órgãos e entidades da Administração Pública Municipal.
- E) Os recursos orçamentários e financeiros disponíveis.

Questão 27

Nos termos do art. 43 e seus incisos, para avaliação do desempenho do servidor, a ser regulamentada por ato do Poder Executivo municipal, deverá ser considerado, dentre outros, os seguintes critérios:

- I- conjugação de conhecimentos teóricos e práticos;
- II- sociabilidade;
- III- desenvolvimento profissional;
- IV- equilíbrio físico.

Estão corretos apenas os itens:

- A) I e II.
- B) II e III.
- C) III e IV.
- D) I, II e III.
- E) II, III e IV.

Questão 28

No que diz respeito ao "Exercício" previsto no art. 35 e seus parágrafos, analise os itens seguintes e marque a alternativa correta:

I- Exercício é o efetivo desempenho das atribuições e responsabilidades do cargo para o qual foi nomeado e empossado o servidor.

II- O exercício deverá ocorrer dentro do prazo de 03 (três) dias contados da data da posse, no caso de nomeação e, da publicação oficial do ato, nos demais casos.

III- Será exonerado o servidor empossado que não entrar em exercício no prazo previsto no item II.

- A) Apenas o item I está correto.
- B) Apenas o item II está correto.
- C) Apenas o item III está correto.
- D) Apenas os itens I e II estão corretos.
- E) Todos os itens estão corretos.

Questão



Conforme preceitua o art. 30 e seu parágrafo único, a nomeação para cargo de provimento efetivo, sujeita o servidor nomeado ao cumprimento dos requisitos do estágio probatório, obedecendo ao prazo de 03 (três) anos. A aquisição da estabilidade ficará condicionada à:

- A) avaliação geral de desempenho, realizada por Comissão do Grupo Ocupacional.
- B) avaliação especial de desempenho, realizada por Comissão instituída para essa finalidade.
- C) elaboração de Relatório anual pelo servidor e avaliado pelo chefe do poder executivo municipal.
- D) elaboração de Relatório anual pelo servidor e avaliado por Comissão especial.
- E) entrega de produtividade do servidor à Comissão especial.

Questão



Qual a terminologia atribuída, nos termos do art. 54, ao órgão de apoio técnico à administração municipal, com a finalidade de orientar a implantação e operacionalização do Plano de Carreira, em especial, proceder a aplicação de critérios de avaliação especial de desempenho do servidor em estágio probatório, e dos critérios para promoção na carreira?

- A) Comissão de Acompanhamento do Plano de Cargos e Salários dos Servidores Públicos do Município de Ourém.
- B) Diretoria de Acompanhamento do Plano de Cargos e Salários dos Servidores Públicos do Município de Ourém.
- C) Setor de Administração do Plano de Cargos e Salários dos Servidores Públicos do Município de Ourém.
- D) Comissão de Gestão do Plano de Cargos e Salários dos Servidores Públicos do Município de Ourém.
- E) Secretaria de Gestão do Plano de Cargos e Salários dos Servidores Públicos do Município de Ourém.



CONHECIMENTOS ESPECÍFICOS

Questão



Assinale a alternativa que contém a quantidade correta de arroz a ser preparada para 145 pessoas, considerando o fator de cocção de 1,25 e a porção per capita servida de 100g.

- A) 12 kg.
- B) 11,600 kg.
- C) 12,500 kg.
- D) 13,100 kg.
- E) 10,500kg.

Questão



O nutricionista de um restaurante comercial previu no cardápio do almoço: bife de coxão mole acebolado. Esse restaurante é frequentado por 150 clientes diariamente, e o profissional considera o consumo *per capita* de 100g de carne. Nessa situação hipotética, sabendo que o fator de correção da carne do tipo coxão mole é de 1,3, a quantidade de carne que deve ser adquirida para realizar o almoço é de:

- A) 18 kg.
- B) 18,5 kg.
- C) 19,5 kg.
- D) 20 kg.
- E) 20,5 kg.

Questão



Considere as seguintes assertivas, dentro do contexto de avaliação nutricional de adultos, e assinale a opção errada:

- A) Mulher, altura 1,52m, peso 89kg e circunferência abdominal 109cm. Esta mulher apresenta obesidade grau II, segundo o índice de massa corporal e risco severo para doenças crônicas não transmissíveis, bem como acúmulo de tecido adiposo na região do abdome com risco muito alto de doenças associadas à circunferência abdominal, segundo o gênero.
- B) Homem, altura 1,65m, peso 60kg, circunferência abdominal 85cm. Este homem apresenta eutrofia de acordo com o índice de massa corporal e sem risco de doenças associadas à circunferência abdominal, segundo o gênero.
- C) Homem, altura 1,55m, peso 68,5kg, circunferência abdominal 115cm. Este homem apresenta pré-obesidade de acordo com o índice de massa corporal e acúmulo de tecido adiposo na região do abdome, compatível com risco muito alto de doenças associadas à circunferência abdominal, segundo o gênero.
- D) Homem, altura 1,65m, peso 79kg, circunferência abdominal 110cm. De acordo com o índice de massa corporal, este homem apresenta-se eutrófico e com risco alto de doenças associadas à circunferência abdominal, segundo o gênero.
- E) Mulher, altura 1,45m, peso 45,6kg e circunferência abdominal 73cm. Segundo o índice de massa corporal, esta mulher encontra-se eutrófica, e sem risco de doenças associadas à circunferência abdominal, segundo o gênero.

Questão



Quais os índices contemplados na Caderneta de Saúde do Adolescente do Ministério da saúde para avaliar o estado nutricional?

- A) Estatura em relação à idade; índice de massa corporal.
- B) Peso da massa corporal em relação à idade; perímetro da cintura.
- C) Peso em relação à idade; peso em relação à estatura.
- D) Índice de massa corporal; e perímetro cefálico.
- E) Peso em relação à idade; estatura em relação à idade; peso em relação à estatura.

Questão



Uma criança apresenta índices de peso/altura – alto, peso/idade – normal, e altura/idade – baixo. A interpretação destes resultados é de que alimentação atual é:

- A) Normal e não há antecedentes de má nutrição.
- B) Normal, mas há antecedentes de má nutrição.
- C) Excessiva, mas há antecedentes de má nutrição.
- D) Excessiva, mas não há antecedentes de má nutrição.
- E) Mediana, com antecedes de má nutrição e falta de aleitamento materno.

Questão



De acordo com Código de Ética do Nutricionista, aprovado pelo Conselho Federal de Nutricionistas, é proibido a este Profissional:

- A) dar, através da mídia falada ou escrita, atendimento individual sob a forma de consulta, diagnóstico ou dieta.
- B) participar no planejamento e execução de atividades que visem à formação continuada de recursos humanos em saúde.
- C) participar na elaboração e gerenciamento de políticas de alimentação e nutrição.
- D) fazer desagravo público por ofensa que atinja sua honra profissional.
- E) prestar serviços profissionais, gratuitamente, a instituições beneficentes.

Questão 37

Relacione os minerais à sua respectiva função no organismo humano, numerando a segunda coluna de acordo com a primeira.

Primeira Coluna	Segunda Coluna
1) Ferro	() Essencial na defesa imunológica.
2) Zinco	() Fundamental para o crescimento.
3) Cálcio	() Faz parte da estrutura química dos hormônios tireoidianos.
4) Iodo	() Elemento estrutural do grupo heme na hemoglobina.

A sequência correta, de cima para baixo, é:

- A) 2, 3, 4, 1.
- B) 4, 3, 2, 1.
- C) 2, 3, 1, 4.
- D) 4, 2, 1, 3.
- E) 4, 1, 2, 3.

Questão 38

Vitaminas e sais minerais são essências para a manutenção de uma vida saudável. Todas as alternativas apresentam correta relação entre o nutriente, exemplo de sua função no organismo e respectiva fonte alimentar comum, exceto:

- A) Magnésio – importante na formação de dentes e ossos; transmissão de impulso nervoso.
- B) Vitamina K – coagulação sanguínea – vegetais verdes, ovos, fígado.
- C) Ferro – importante constituinte da hemoglobina – carnes, gema, folhas verdes.
- D) Fósforo – importante constituinte de ácidos nucleicos – laticínios, carnes e algumas leguminosas.
- E) Vitamina A – processo visual; proteção de pele e mucosas; crescimento e reprodução – ovo, leite, vegetais e frutas amarelas e alaranjadas.

Questão 39

“A deficiência de _____ pode levar a _____, que é (são) caracterizado(s) por _____.” A alternativa que preenche corretamente as lacunas do trecho é:

- A) tiamina; beribéri; dermatite.
- B) vitamina C; polineurites; dores articulares.
- C) niacina; pelagra; dermatite, demência e diarreia.
- D) vitamina A; glossite; aftas e rachaduras nos lábios.
- E) ácido fólico; polineurites; paralisia.

Questão 40

Em relação aos fatores que afetam a absorção de cálcio, analise as proposições seguintes:

- I- A deficiência de cálcio aumenta a sua absorção.
- II- A deficiência de vitamina D aumenta a absorção de cálcio.
- III- A redução da acidez gástrica reduz a absorção de cálcio.
- IV- A deficiência de fósforo aumenta a absorção de cálcio.

Está(ão) corretas(s) apenas:

- A) I, II e III.
- B) I, III e IV.
- C) I e II.
- D) II e III.
- E) I.

Questão 41

O trato gastrointestinal (TGI) humano está preparado para desempenhar a digestão e absorção de nutrientes provenientes de uma grande variedade de alimentos, incluindo carnes, laticínios, frutas, hortaliças, grãos, amidos complexos, açúcares, gorduras e óleos. Qual a enzima responsável pela digestão do amido?

- A) Lactase.
- B) Lipase.
- C) Amilase.
- D) Sacarase.
- E) Maltase.

Questão 42

Os lipídeos exógenos que são absorvidos necessitam ser transportados no sangue; como as gorduras são insolúveis e o sangue é aquoso, necessitam de um transporte especial e este é realizado pelas lipoproteínas. Quanto aos transportadores de lipídeos, marque a alternativa errada:

- A) O fígado secreta e produz na corrente sanguínea uma lipoproteína de muito baixa densidade, chamada VLDL.
- B) A LDL é produzida no sangue pelo catabolismo da VLDL, e é considerada uma lipoproteína fonte de colesterol.
- C) A VLDL transporta tricilgliceróis exógenos e endógenos. No sangue, a VLDL sofre a ação da lipase lipoproteica, transformando-se rapidamente em LDL, lipoproteína de baixa densidade.
- D) A HDL ou lipoproteína de alta densidade é a menor das lipoproteínas, é produzido pelas células do fígado e intestino.
- E) A ausência ou diminuição da quantidade do receptor LDL ocorre na hipercolesterolemia.

Questão 43

Em qual das condições listadas a seguir, a circunferência do braço não pode ser utilizada como instrumento de triagem ou diagnóstico de estado nutricional?

- A) Gestação.
- B) Casos de edema generalizado.
- C) Presença de tumor abdominal.
- D) Condições de obesidade extrema.
- E) Casos de desnutrição.

Questão 44

Algumas vitaminas tem uma importância em particular no resultado da gestação. Em alguns exemplos, a necessidade de vitaminas específicas pode ser atingida pela dieta, e outras vezes, somente por meio de suplementação. Sobre dietoterapia na gestação e lactação, analise as afirmações e marque alternativa correta:

- A) As necessidades de ácido fólico aumentam durante a gravidez em resposta às demandas de eritropoiese materna.
- B) As necessidades de vitamina E em seres humanos não é rara e está diretamente ligada à redução da fertilidade e malformações fetais.
- C) A deficiência de vitamina D está associada à hipercalemia neonatal e ainda hiperplasia de esmalte dental.
- D) As mulheres, que tomam análogo de vitamina A para acne e engravidam, apresentam baixo risco de apresentar anomalias fetais.
- E) Não há nenhuma evidência ou estudo que relacione baixos níveis plasmáticos de vitamina C e pré-eclâmpsia.

Questão 45

A "boa pega" é muito importante no processo de amamentação. São sinais de "boa pega" quando, durante a mamada:

A) o queixo do bebê não toca a mama.
 B) os lábios superiores e inferiores do bebê estão voltados para dentro.
 C) o bebê abocanha o mamilo parcialmente e parte da aréola.
 D) a deglutição do bebê é ouvida durante a mamada.
 E) há mais aréola abaixo do que acima da boca do bebê.

Questão 46

Sobre os hábitos alimentares de crianças em idade escolar e pré-escolar, assinale (V) para as afirmações VERDADEIRAS e (F) para as FALSAS:

() Na idade pré escolar, a recusa de alimentos não significa falta de apetite.
 () A oferta de sucos, em qualquer refeição, é sempre bem-vinda, pois trata-se uma fonte importante de vitaminas.
 () O sistema digestório do escolar jamais pode ser comparável ao do adulto, porque o seu volume gástrico é grande.

Assinale a sequência correta:

- A) V-V-F.
 B) V-F-F.
 C) F-V-V.
 D) F-V-F.
 E) V-F-V.

Questão 47

O leite materno maduro apresenta composição mais estável a partir do décimo quinto dia após o parto. Acerca de leite materno, assinale a alternativa correta:

A) A sacarose é o carboidrato de maior presença no leite humano, é, seguido da lactose, o que confere ao leite um sabor bastante doce.
 B) A quantidade de gordura do leite humano, geralmente, não sofre influência da dieta e da condição nutricional da mãe.
 C) A maior variação biológica do leite materno ocorre durante a mamada, visto que o leite anterior é mais gorduroso e o posterior, mais aquoso.
 D) A concentração de ferro no leite humano é alta, sendo compensada pela biodisponibilidade desse nutriente, o que torna o leite humano suficiente para as necessidades do lactente.
 E) A concentração de proteína no leite humano é duas vezes maior que a concentração de proteína presente no leite de vaca.

Questão 48

A temperatura máxima adequada para o armazenamento em câmaras frigorífica de: carne, hortifrutti e produtos congelados são, respectivamente:

A) 4°C; 10°C e -18°C
 B) 2°C; 4°C e -12°C
 C) 6°C; 4°C e 0°C
 D) 8°C; 12°C e -16°C
 E) 10°C; 6°C e -14°C

Questão 49

Considerando as boas práticas de higiene em um serviço de alimentação e nutrição, é correto afirmar que os funcionários que manipulam diretamente os alimentos devem:

- A) usar sempre máscaras descartáveis durante o preparo de fórmulas.
 B) usar sempre luvas descartáveis na manipulação de alimentos prontos para o consumo e que não sofrerão tratamento térmico.
 C) informar ao responsável técnico sobre problemas de saúde recentes, como exceção de doenças do aparelho respiratório.
 D) usar uniformes completos e limpos, trocando-os a cada dois dias de uso.
 E) higienizar as mãos com sabonetes líquidos e escovas para unhas, antes de entrar no setor, na troca de função e sempre que se fizer necessário.

Questão 50

O sistema APPCC fundamenta-se na identificação e nas medidas para o controle das condições dos perigos potenciais à segurança do alimento. Baseia-se numa série de etapas inerentes ao processo de produção de alimentos, da obtenção da matéria-prima, até o consumo do alimento. É correto afirmar, sobre esse sistema, que:

A) Análise de perigos é o estabelecimento do requisito no qual é baseada a tomada de decisão ou julgamento.
 B) Diagrama decisório dos pontos críticos controle (PCC) é uma sequência de perguntas para determinar se uma matéria-prima ou etapa do processo é um PCC.
 C) Limite crítico é a sequência planejada de observações ou mensurações devidamente registrada que permitem avaliar se um perigo está sob controle.
 D) Limite de segurança é qualquer contaminante de natureza biológica, química ou física, ou condição do alimento que pode causar dano à saúde ou à integridade do consumidor.
 E) Registro é o uso de métodos, procedimentos ou testes para validar, auditar, inspecionar e calibrar, com a finalidade de assegurar que o Plano APPCC está em concordância com o Sistema APPCC.



